

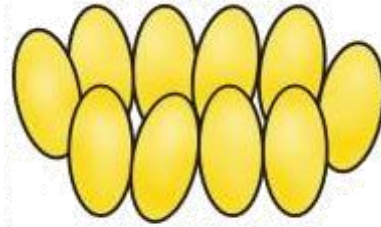


Ο κύκλος ζωής της
πασχαλίτσας




1



αβγά


Ο κύκλος ζωής της
πασχαλίτσας

3



νύμφη

2



προνύμφη

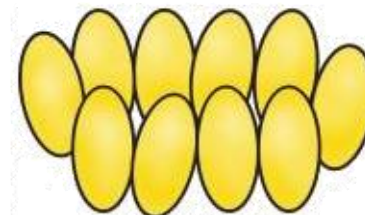


4



πασχαλίτσα

Κοίταξε προσεχτικά τις εικόνες και αριθμήσε την κάθε μια σύμφωνα με τον κύκλο ζωή μιας πασχαλίτσας.

Δείξε δηλαδή με το δάχτυλο σου ποιά είναι ή πρώτη, ποιά η δεύτερη κ.ο.κ





1

2

3

4



Ο κύκλος ζωής της
πασχαλίσας

